

1.秋分前后,小明周末和同学们到郊区开展研学活动。下面是活动区域等高线地形图。据此完成下列问题。(7空)

(1)同学们分别从甲、乙两村出发,经m、n两条路线在A处集合。两条路线中相对平缓的是_____ ,集合处的山体部位名称是_____。

(2)同学们在爬山过程中,沿途看到梯田上有成片的柑橘、甜橙等果林,由此判断图示区域位于我国四大地理区域中的_____。

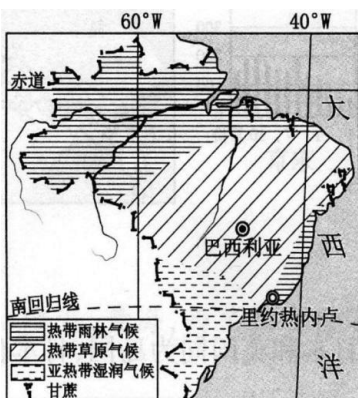
(3)同学们计划第二天早晨看日出,图中B、C两处最佳观点是_____ ,你的理由是_____。

(4)同学们查阅天气预报,得知次日甲村最低气温23℃,有同学建议第二天早晨带件羽绒服去看日出,你认为是否有必要?请说明理由。

答:_____

(5)同学们得知,甲村计划修建自来水厂(位置如图所示),预案中有D、E两处引水点,你认为哪处合适?请说明理由。

答:_____



2.小明准备暑假去巴西旅游,请利用下面的巴西相关地图帮助他完成一份旅游攻略。(9空)

(1)航班信息:中国北京—法国巴黎—巴西里约热内卢航线,飞越了_____大陆,经_____洋到达巴西。

(2)里约热内卢文化之旅:在这里可以欣赏热情奔放的_____。

(3)走进巴西利亚:该城市位于_____纬度地区,四季如春,终年繁花似锦,这是因为其地处

高原。

(4)探索热带雨林:热带雨林主要分布巴西的平原,该区域的气候特征主要

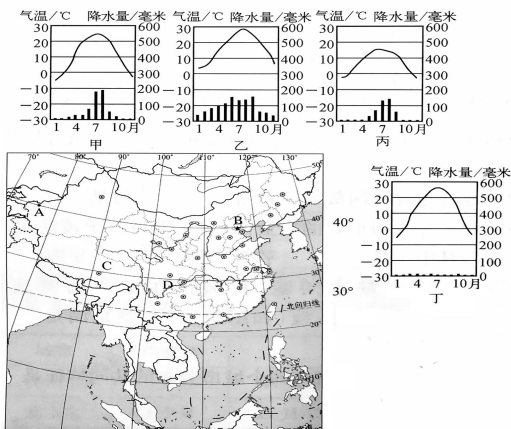
为_____。2019年,巴西森林大火造成至少50万公顷的热带雨林被毁,大火可能对环境造成的影响是()

A.改善水土流失 B.森林中生物数量减少

C.增加氧气含量 D.河流水量不变

(5)购物信息:巴西的咖啡产量长期居世界第一位,其种植区主要分布在巴西的_____地区。

3.读图,完成下列问题。(14空)



(1) 请将甲、乙、丙、丁四种气候类型与 A、B、C、D 四地进行正确组合。

甲—____，乙—____，丙—____，丁—____。

(2) A、B 两地中，年降水量较多的是____地，A 地的气候类型为____，造成两地气候差异的主要因素是_____。

(3) C、D 两地中，夏季较凉爽的是____地，主要影响因素是_____。

(4) B、D 两地中，一月平均气温低于 0℃的是____地，B 地气候类型为____，B 地的气候特征____，造成 B、D 两地气候差异主要因素是_____。

4. 读图，完成下列问题。(8 空)

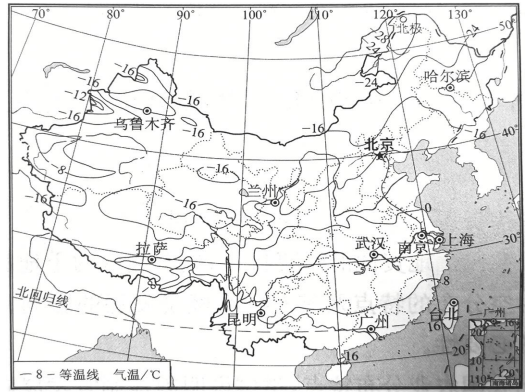
(1) 漠河北极村的气温在____℃以下，海南岛的气温在____℃以上。两地温差约为____℃，说明我国冬季南北温差_____。

(2) 在图中描画出我国 0℃等温线，0℃等温线以北地区的河流冬季有_____现象。

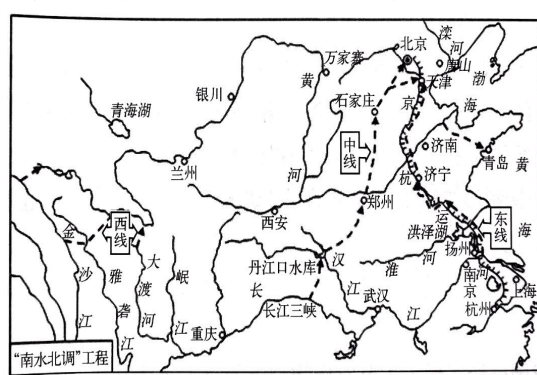
() (3) 关于我国冬季气温特点形成的主要原因，叙述正确的是

- A. 太阳直射北半球
- B. 太阳直射南半球，在我国越往北获得的太阳光热越少
- C. 夏季风影响
- D. 冬季风影响减小了我国南北温差

(4) 从图中我国等温线分布可以看出：我国纬度越_____气温越低，纬度越_____气温越高。



5. 读“南水北调”工程示意图，完成下列问题。(7 空)



(1) “南水北调”工程，是指把_____流域丰富的水资源，通过引水工程调到我国缺水严重的_____和_____地区。

(2) “南水北调”工程分东、中、西 3 条调水路线，东线利用了我国著名的_____作为输水主干道。

(3) 图中的引水、调水工程可以解决我国水资源_____分布不均的问题。

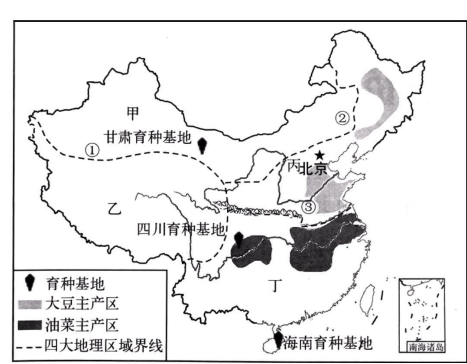
(4) 我国是世界 13 个贫水国之一，节约用水、保护水资源尤为重要，需要你、我、他共同参与，我们在生活中该怎样节水、保护水资源呢？请写出至少 2 条措施。

答：_____；_____。

6. 目前我国已经实现了主要农作物种子的自主选育，设立了三大国家级育种基地。读中国四大地理分区及三大国家级育种基地和部分农作物分布图，完成下列问题。(10 空)

(1) 我国四大地理区域的三大分界线与起主导作用的影响因素分别是：

界线①的影响因素是_____因素，界线②的影响因素是_____因素，界线③的影响因素是_____因素。

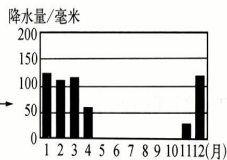


(2) 三大育种基地中热量条件最充足的是_____；甘肃育种基地有利于农作物生长的优势气候条件是_____，当地的灌溉水源主要来自_____。

(3) 发展农业需要综合考虑光照、热量、水分、地形和土壤等因素，四大地理区域农业类型各不相同：甲、乙两地区主要以_____业为主，丙、丁两地区主要以_____业为主。东西部农业的分界线与_____毫米等降水量线相一致。

(4) 一投资商经过考察后，在哈尔滨和重庆两地分别投资新建了两个榨油厂，你认为投资商的选择合理吗？请结合原料分布进行分析。

答：



7. 下图为非洲气候类型分布图和非洲C地降水量柱状图，据此完成下列问题。(10空)

(1) 非洲绝大部分位于“五带”中的 带，由于 （重要纬线）穿过中部，气候大致南北对称分布。

(2) 非洲濒临大洋A ，B 。

(3) ②河流经 气候区，降水 ，流量远大于①河。

(4) C地是 气候，据图其全年降水特点是 。

(5) 撒哈拉以南的非洲矿产资源丰富，这些矿产出口到日本可能经过东南亚

海峡。撒哈拉以南的非洲人种以 人种为主。

8. 青藏地区和南极地区是开展科学考察的天然实验室，我国对这两个地区进行了多次科学考察。图为青藏地区和南极地区位置示意图。阅读图文材料，回答下列问题。(8空)

(1) 照片一和照片二反映的是两地区科学考察的场景。任选其一，判断照片的拍摄地，说出理由： 照片一为



 照片二为

(2) 青藏地区适合科考的时间段是 ，南极地区适合科考的时间段是 。(单项选择)

A. 11月—次年4月 B. 5—8月 C. 全年

(3) 青藏地区和南极地区气候寒冷，但成因不同。青藏地区主要是由于 高，南极地区主要是由于 高。

(4) 青藏地区和南极地区都是对全球气候变化最为敏感的地区。①—④表示气候变化对两个地区环境的不同影响，将序号填在对应的横线上。对青藏地区的影响有 ，对南极地区影响有 。

①海冰、冰盖面积变化 ②高海拔湖泊、湿地面积变化

③“亚洲水塔”水量变化 ④极地海洋生物的栖息地变化

9. 科技发展助力我国国家实力的不断提升，近年来我国在航天、粮食安全等方面成绩卓著。结合图文材料，完成下列问题。(17空)

材料一 目前，我国已经拥有了西昌、太原、酒泉和文昌四大卫星发射中心。图1和图2分别为四大卫星发射中心位置图和内蒙古自治区年降水量及植被分布图。

(1) 读图1可知，我国四大卫星发射中心中，西昌位于 省，文昌位于我国第二大岛— 。航天

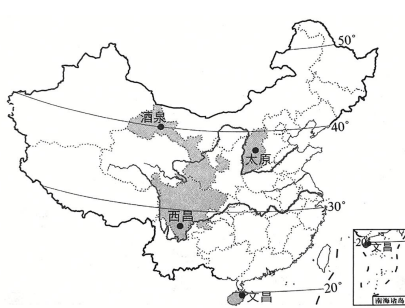


图1 四大卫星发射中心位置图

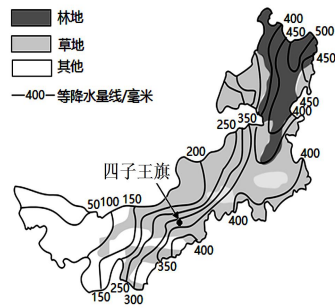


图2 内蒙古自治区年降水量及植被分布图

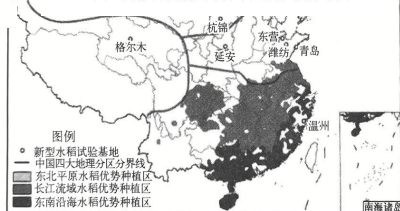


图4 我国水稻优势产区和新型水稻试验田分布图

工业属于_____。
 (2)图2所示是_____。

(3)我国“神舟”系列飞船的主着陆场多选择在内蒙古高子王旗作为安因:_____。

材料二 粮食安
 题,加强粮食安
 和图4分别为我
 国水稻优势产

(4)图3所示其影响因素

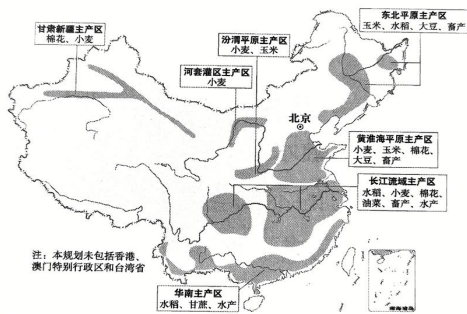


图3 我国农产品主产区建设规划示意图

平原主产区的的生产条件是_____。

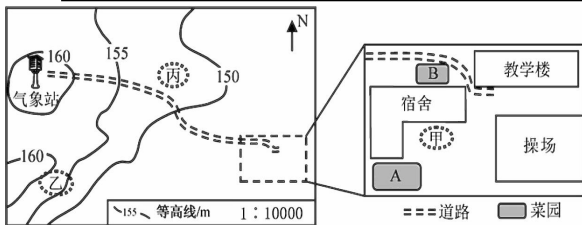
(5)读图4可知,我国水稻优势种植区主要分布在四大地理区域中的_____。东北地区是全球水稻种植最北地区,主要是因为这里_____。

(6)“杂交水稻之父”袁隆平及其团队研究新型水稻在不同自然环境下的适应性。在沙漠区的阿克陶县研究水稻的抗旱性,在青藏高原的格尔木市研究水稻的_____。

(7)“家中有粮,心中不慌”。为确保粮食安全,走可持续发展之路,我国采取的措施有_____。

产业。
 区域年降水量的分布规律
 形成原因是_____。
 舟”系列飞船的主着陆场多选
 原的四子王旗。请简述选择四
 全着陆点的主要自然原

全是现阶段国际社会普遍关注的问
 全也是我国目前的重要任务。图3
 国农产品主产区建设规划示意图和
 区和新型水稻试验田分布图。
 甘肃新疆主产区呈狭长分布,
 有_____、_____。黄淮海



10 我国某中学“校园劳动实践场所”建设初见成效。下图示意校园劳动实践场所分布,据此完成下列问题。(9空)

(1)校园气象站的海拔范围是160米至_____米。教学楼到气象站的道路在图上距离为5厘米,实地距离为_____米。通过观测发现一天中最高气温在_____时左右。

(2)A、B两块菜园,在施肥、浇水等相同的情况下,同一品种喜光蔬菜长势更好的是_____菜园,原因是_____。

的情况下,同一品种喜光蔬菜长势更好的是_____菜园,原因是_____。

(3)学校计划在甲乙丙三地块上建小花园、水土保持园、家兔饲养园。

①甲、乙、丙三地块,实际面积最小的是_____地块。

②水土保持园建在乙地块,理由是_____。

③从环境卫生的角度考虑,甲和丙两地块宜建家兔饲养园的是_____地块,理由是_____。